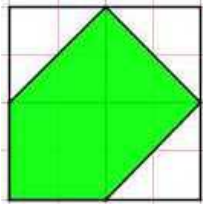
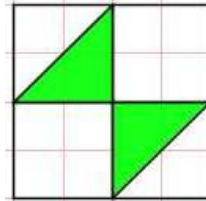


Flächen- und Rauminhalte: Messen von Flächeninhalten

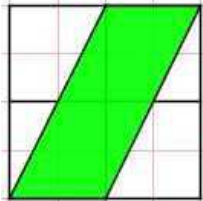
1. Jedes Quadrat misst 4m x 4m, also 16m² - gib für jede grüne Fläche an
 a) den wievielten Teil des Quadrates sie ausmacht:
 b) Wie viele m² sie misst:



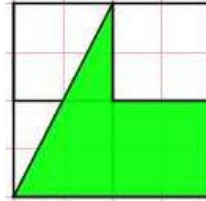
Bruchteil: $\frac{5}{8}$
 Fläche: 10m²



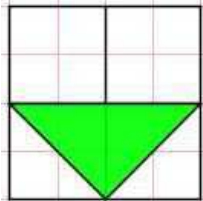
Bruchteil: $\frac{1}{4}$
 Fläche: 4m²



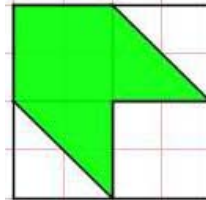
Bruchteil: $\frac{1}{2}$
 Fläche: 8m²



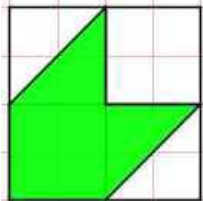
Bruchteil: $\frac{1}{2}$
 Fläche: 8m²



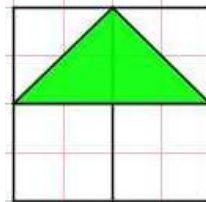
Bruchteil: $\frac{1}{4}$
 Fläche: 4m²



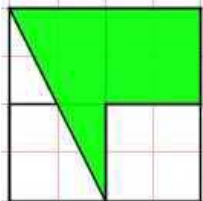
Bruchteil: $\frac{1}{2}$
 Fläche: 8m²



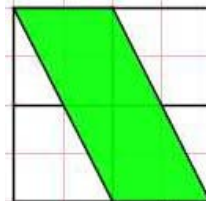
Bruchteil: $\frac{1}{2}$
 Fläche: 8m²



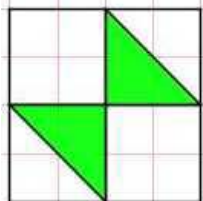
Bruchteil: $\frac{1}{4}$
 Fläche: 4m²



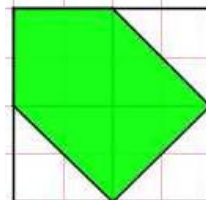
Bruchteil: $\frac{1}{2}$
 Fläche: 8m²



Bruchteil: $\frac{1}{2}$
 Fläche: 8m²



Bruchteil: $\frac{1}{4}$
 Fläche: 4m²



Bruchteil: $\frac{5}{8}$
 Fläche: 10m²