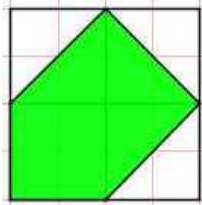




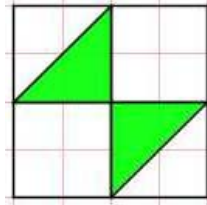
Flächen- und Rauminhalte: Messen von Flächeninhalten

1. Jedes Quadrat misst 4m x 4m, also 16m² - gib für jede grüne Fläche an
 a) den wievielten Teil des Quadrates sie ausmacht:
 b) Wie viele m² sie misst:



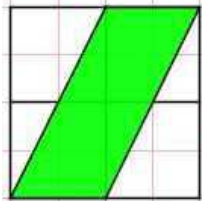
Bruchteil: ____

Fläche: ____ m²



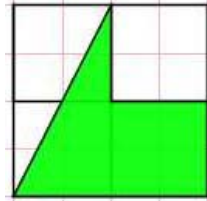
Bruchteil: ____

Fläche: ____ m²



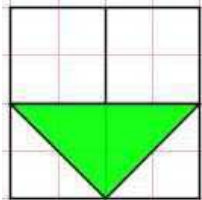
Bruchteil: ____

Fläche: ____ m²



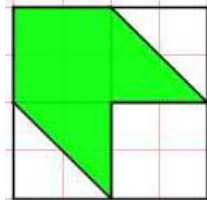
Bruchteil: ____

Fläche: ____ m²



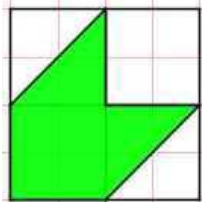
Bruchteil: ____

Fläche: ____ m²



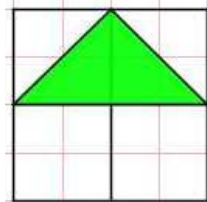
Bruchteil: ____

Fläche: ____ m²



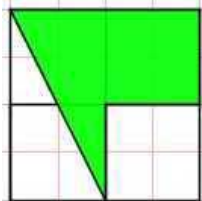
Bruchteil: ____

Fläche: ____ m²



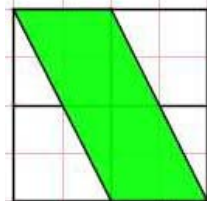
Bruchteil: ____

Fläche: ____ m²



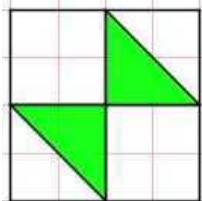
Bruchteil: ____

Fläche: ____ m²



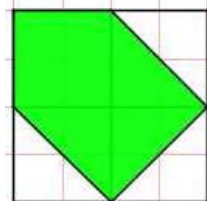
Bruchteil: ____

Fläche: ____ m²



Bruchteil: $\frac{1}{4}$

Fläche: 4 m²



Bruchteil: ____

Fläche: ____ m²