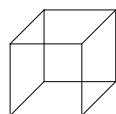


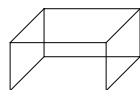


## Geometrie 1: Körper und Netze

Hier lernst du mit Würfel- und Quadernetzen umzugehen.

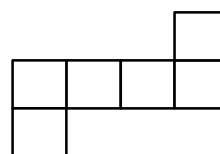


Würfel

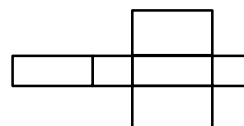


Quader

Würfelnetz:



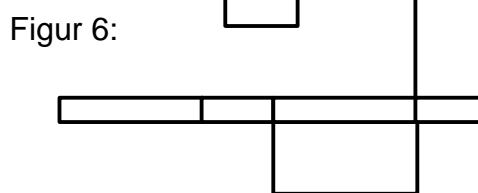
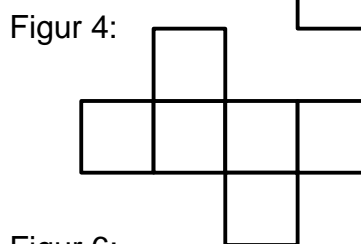
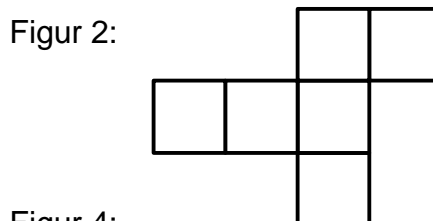
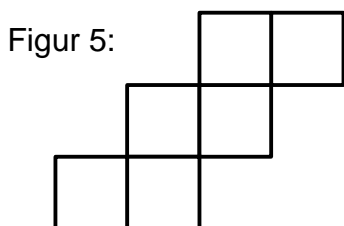
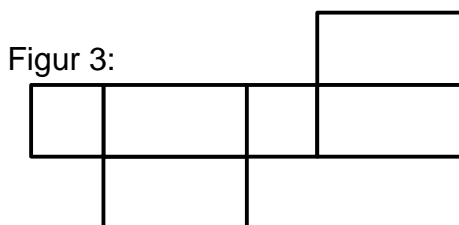
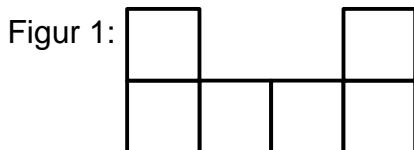
Quadernetz:



Du siehst verschiedene Netze. Manche lassen sich zu einem Würfel oder Quader zusammenbauen. Achtung, es hat sich auch ein Netz versteckt, das weder zu einem Würfel noch zu einem Quader zusammengesetzt werden kann. Findest du es?

Kreuze die richtige Antwort an:

	Würfelnetz	Quadernetz		Würfelnetz	Quadernetz
Figur 1	<input type="checkbox"/>	<input type="checkbox"/>	Figur 4	<input type="checkbox"/>	<input type="checkbox"/>
Figur 2	<input type="checkbox"/>	<input type="checkbox"/>	Figur 5	<input type="checkbox"/>	<input type="checkbox"/>
Figur 3	<input type="checkbox"/>	<input type="checkbox"/>	Figur 6	<input type="checkbox"/>	<input type="checkbox"/>



★ Stelle selbst ein Würfelnetz her. Probiere aus, ob du es wirklich zu einem Würfel zusammenbauen kannst.



Geometrie 1: Körper und Netze  
Umgang mit Würfel- und Quadernetzen.

Autor: D. Bappert

**Mathematik**

Blatt-Nr:

mat 30 04 018 A

Seite 1 von 1

