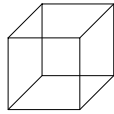




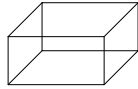
Geometrie 1: Körper und Netze



Hier lernst du mit Würfel- und Quadernetzen umzugehen.

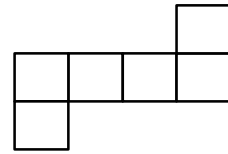


Würfel

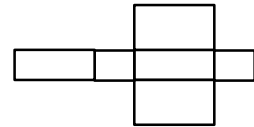


Quader

Würfelnetz:



Quadernetz:

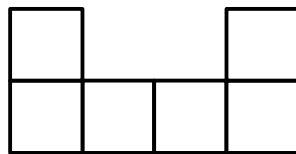


Du siehst verschiedene Netze. Manche lassen sich zu einem Würfel oder Quader zusammenbauen. Achtung, es hat sich auch ein Netz versteckt, das weder zu einem Würfel noch zu einem Quader zusammengesetzt werden kann. Findest du es?

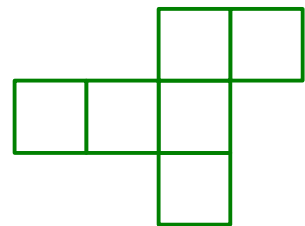
Kreuze die richtige Antwort an:

	Würfelnetz	Quadernetz		Würfelnetz	Quadernetz
Figur 1			Figur 4	<input checked="" type="checkbox"/>	
Figur 2	<input checked="" type="checkbox"/>		Figur 5	<input checked="" type="checkbox"/>	
Figur 3		<input checked="" type="checkbox"/>	Figur 6		<input checked="" type="checkbox"/>

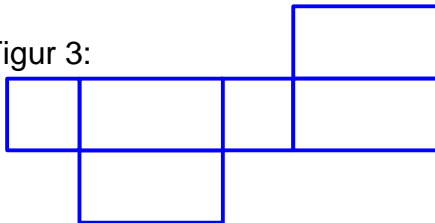
Figur 1:



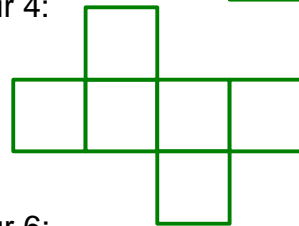
Figur 2:



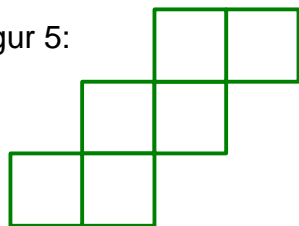
Figur 3:



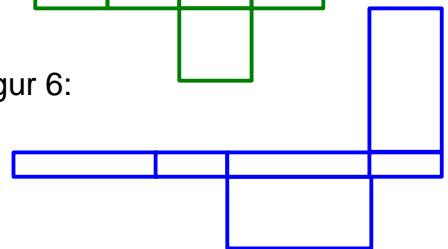
Figur 4:



Figur 5:



Figur 6:



ⓘ Wenn die Würfel- und Quadernetze stark vergrößert und auf Pappe aufgeklebt werden, lassen sie sich zu Würfeln oder Quadern zusammenbauen.



Geometrie 1: Körper und Netze
Umgang mit Würfel- und Quadernetzen.

Autor: D. Bappert

Mathematik

mat 30 04 018L

Seite 1 von 1